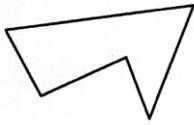
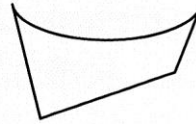


M 27 : Reconnaître, décrire et nommer un carré, un rectangle, un losange

- Les figures dont tous les côtés sont droits s'appellent des **polygones**.


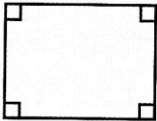



Cette figure est un polygone.



Cette figure n'est pas un polygone.

- Les polygones qui ont **4 côtés** s'appellent des **quadrilatères**. Parmi eux se trouvent le **carré**, le **rectangle** et le **losange**.

Le carré	Le rectangle	Le losange
 <ul style="list-style-type: none"> • 4 sommets • 4 côtés égaux • 4 angles droits 	 <ul style="list-style-type: none"> • 4 sommets • 4 côtés : 2 largeurs égales et 2 longueurs égales • 4 angles droits 	 <ul style="list-style-type: none"> • 4 sommets • 4 côtés égaux

- On nomme une figure par ses sommets. Ex. : le rectangle ABCD.

C 19 : L'imparfait des verbes être et avoir

personne	être	avoir
1 ^{ère} personne du singulier	J'étais	J'avais
2 ^{ème} personne du singulier	Tu étais	Tu avais
3 ^{ème} personne du singulier	Il/elle/on était	Il/elle/on avait
1 ^{ère} personne du pluriel	Nous étions	Nous avions
2 ^{ème} personne du pluriel	Vous étiez	Vous aviez
3 ^{ème} personne du pluriel	Ils/elles étaient	Ils/elles avaient

Rappel : quand on conjugue le verbe être avec un adjectif qualificatif, ce dernier s'accorde avec le sujet.

Exemple : il était petit, **elle** était petite, **nous** étions petits, **vous** étiez petits, **elles** étaient petites.