



La France

La France se trouve à l'ouest de l'Europe.

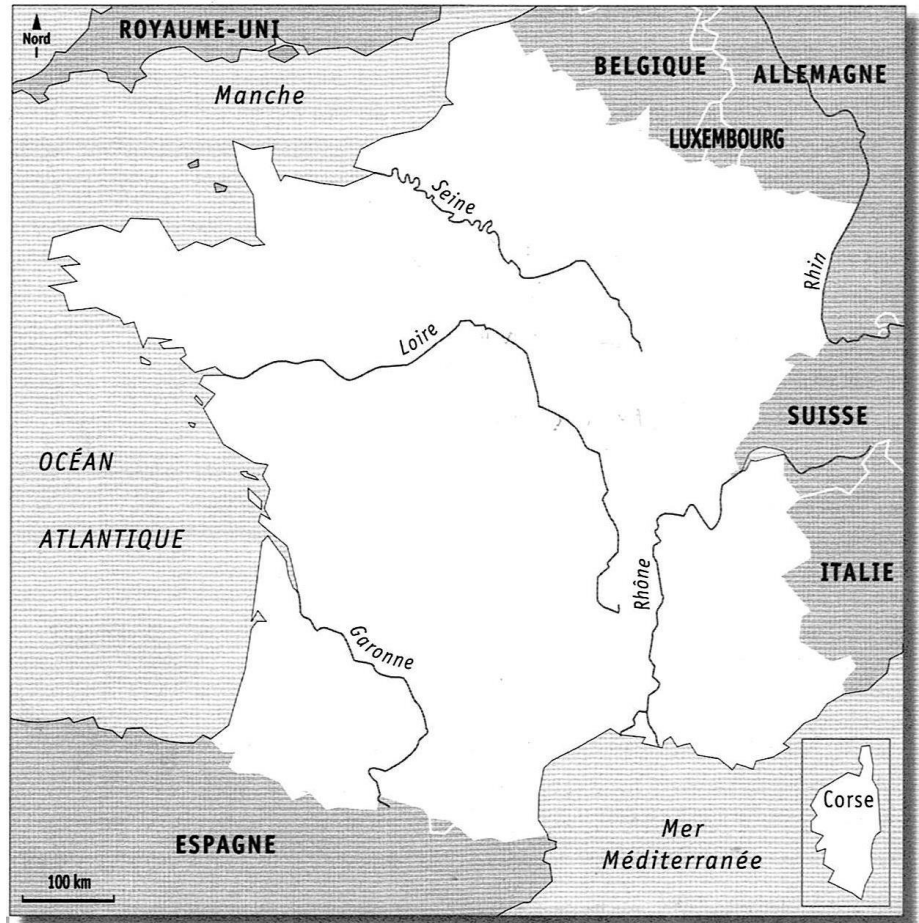
Elle couvre 550 000 km² : c'est l'un des plus grands pays du continent européen.

Sa forme ressemble à un hexagone.*



Sur la carte :

- 1 Repasse en bleu les côtes françaises (n'oublie pas la Corse).
- 2 Repasse en rouge les frontières de la France.
- 3 Entoure les mers et océans qui bordent la France.
- 4 Repasse les fleuves en violet.



Observe la carte et fais ce que l'on te demande:

- 1 Ecris le nom des pays voisins de la France.

_____	_____
_____	_____
_____	_____

Quel pays voisin est séparé par la manche ? _____

- 2 Ecris le nom des 5 fleuves qui coulent en France.

_____	_____
_____	_____
_____	_____

- 3 Mets un point rouge sur la carte pour indiquer où tu habites.

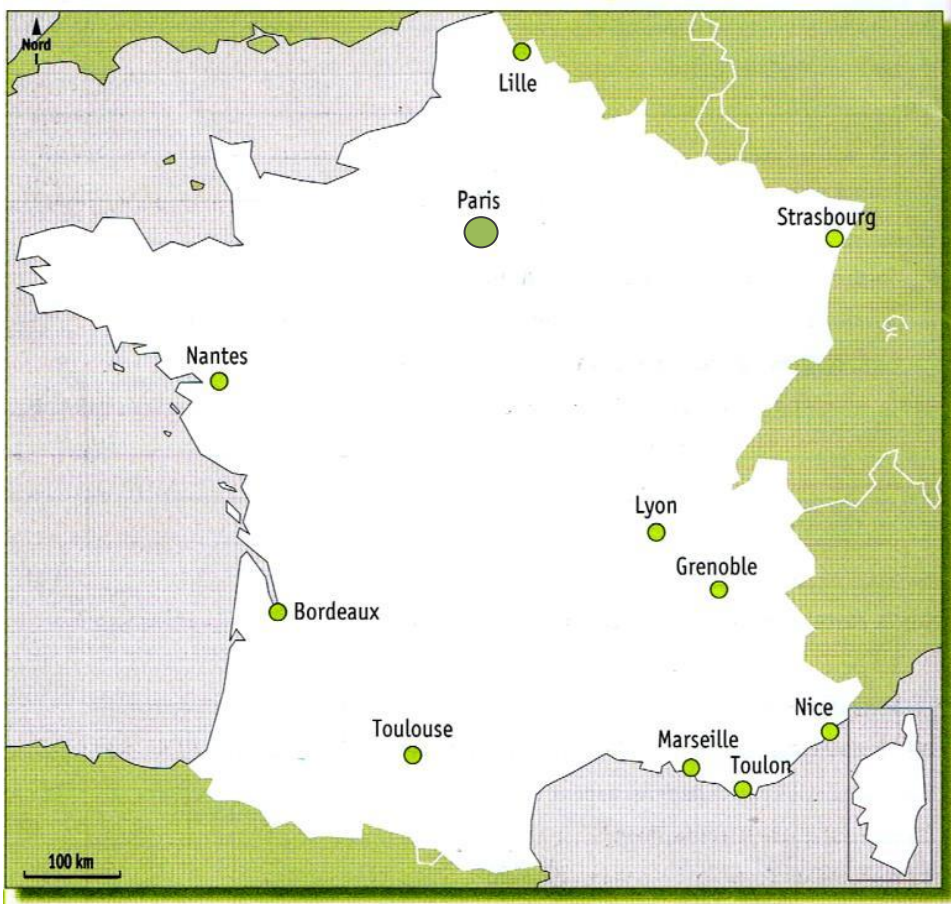
Où vis-tu ? Au Nord, au Sud, à l'Est, à l'Ouest ou au centre de la France ?

De quel pays voisin es-tu le plus proche ? _____

Quel fleuve coule le plus près de chez toi ? _____



Les grandes villes



Trois Français sur quatre sont des citadins : ils vivent en ville*.

Paris, la capitale de la France compte plus de 2 millions d'habitants.

Les plus petites ne comptent que 2000 habitants.

Entre les deux il existe des villes de toutes les tailles.

1 Sur la carte :

Entoure la grande ville la plus proche de chez toi.

2 Observe le tableau et réponds :

- 1** Quelle est la plus grande ville de France ?
○ _____
- 2** Combien d'habitants compte-t-elle ?
○ _____
- 3** Quelle est la 2^{ème} plus grande ville de France ?
○ _____

3 Observe la carte et réponds

- 1** Quelles grandes villes sont au bord de la mer ?

- 2** Quelle grande ville se trouve :
 - Au Nord de la France : _____
 - A l'Est de la France : _____

Agglomération	Habitants
Bordeaux	239 157
Grenoble	155 637
Lille	227 560
Lyon	484 344
Marseille	850 726
Nantes	284 970
Nice	343 304
Paris	2 243 833
Toulouse	441 802
Strasbourg	271 782



Les espaces français

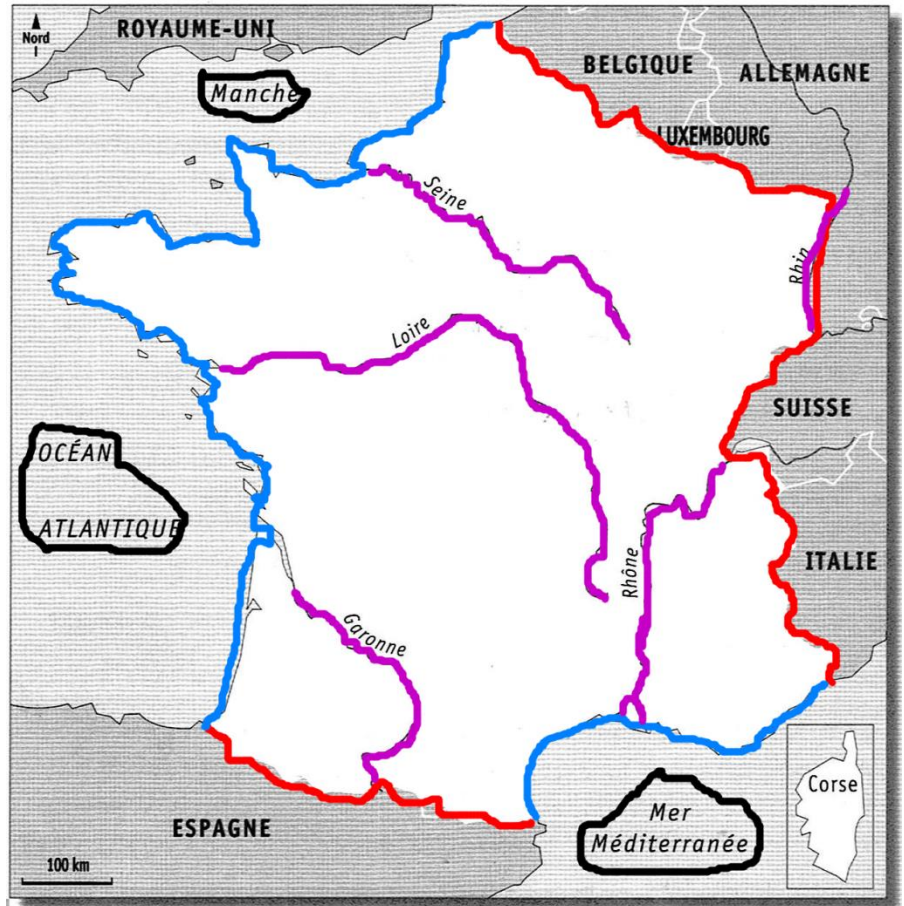
La France se trouve à l'ouest de l'Europe.

Elle couvre 550 000 km² : c'est l'un des plus grands pays du continent européen.

Sa forme ressemble à un hexagone.*

1 Sur la carte :

- 1 Repasse en bleu les côtes françaises (n'oublie pas la Corse).
- 2 Repasse en rouge les frontières de la France.
- 3 Entoure les mers et océans qui bordent la France.
- 4 Repasse les fleuves en violet.



2 Observe la carte et fais ce que l'on te demande:

- 1 Ecris le nom des pays voisins de la France.

Italie

Luxembourg

Suisse

Allemagne

Belgique

Espagne

Quel pays voisin est séparé par la manche ? Le Royaume-Uni

- 2 Ecris le nom des 5 fleuves qui coulent en France.

La Seine

La Loire

Le Rhône

Le Rhin

La Garonne

- 3 Mets un point rouge sur la carte pour indiquer où tu habites.

Où vis-tu ? Au Nord, au Sud, à l'Est, à l'Ouest ou au centre de la France ?

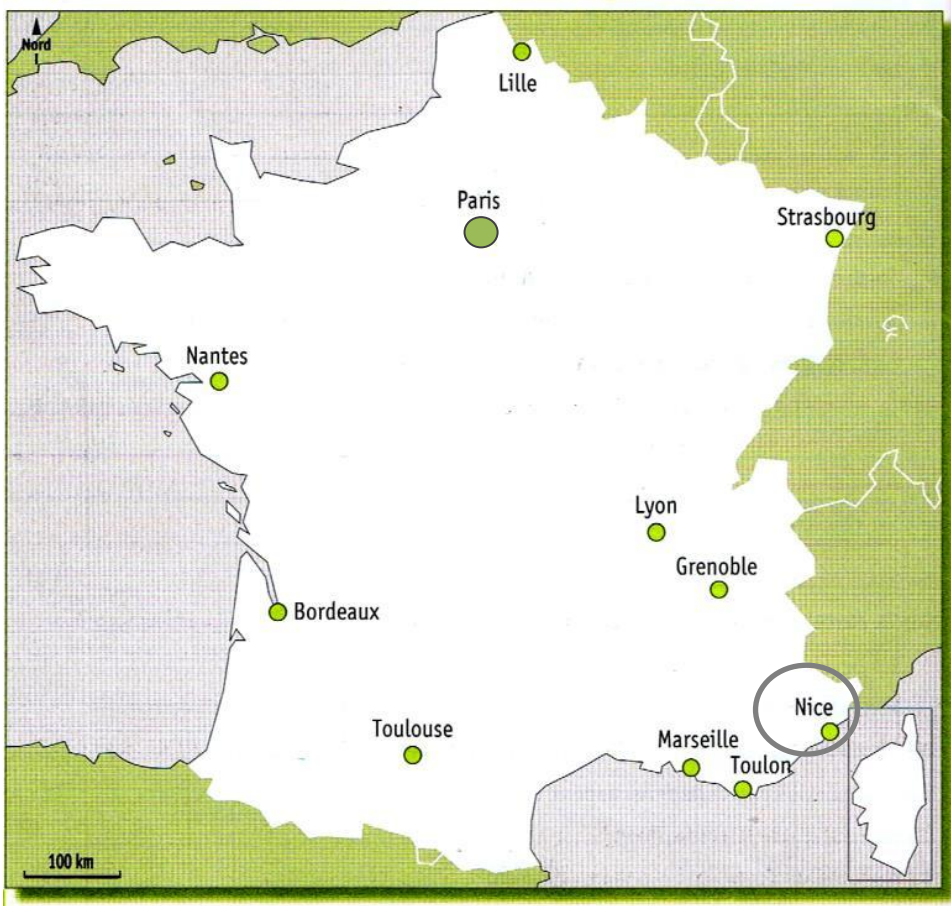
Au sud de la France

De quel pays voisin es-tu le plus proche ? Nice

Quel fleuve coule le plus près de chez toi ? Le Rhône



Les espaces français



Trois Français sur quatre sont des citadins : ils vivent en ville*.

Paris, la capitale de la France compte plus de 2 millions d'habitants.

Les plus petites ne comptent que 2000 habitants.

Entre les deux il existe des villes de toutes les tailles.

1 Sur la carte :

Entoure la grande ville la plus proche de chez toi.

2 Observe le tableau et réponds :

- 1 Quelle est la plus grande ville de France ?
o Paris
- 2 Combien d'habitants compte-t-elle ?
o 2 243 833
- 3 Quelle est la 2^{ème} plus grande ville de France ?
o Marseille

3 Observe la carte et réponds

- 1 Quelles grandes villes sont au bord de la mer ?
Nice Marseille
Toulon
- 2 Quelle grande ville se trouve :
o Au Nord de la France : Lille
o A l'Est de la France : Strasbourg

Agglomération	Habitants
Bordeaux	239 157
Grenoble	155 637
Lille	227 560
Lyon	484 344
Marseille	850 726
Nantes	284 970
Nice	343 304
Paris	2 243 833
Toulouse	441 802
Strasbourg	271 782



Je retiens

La France

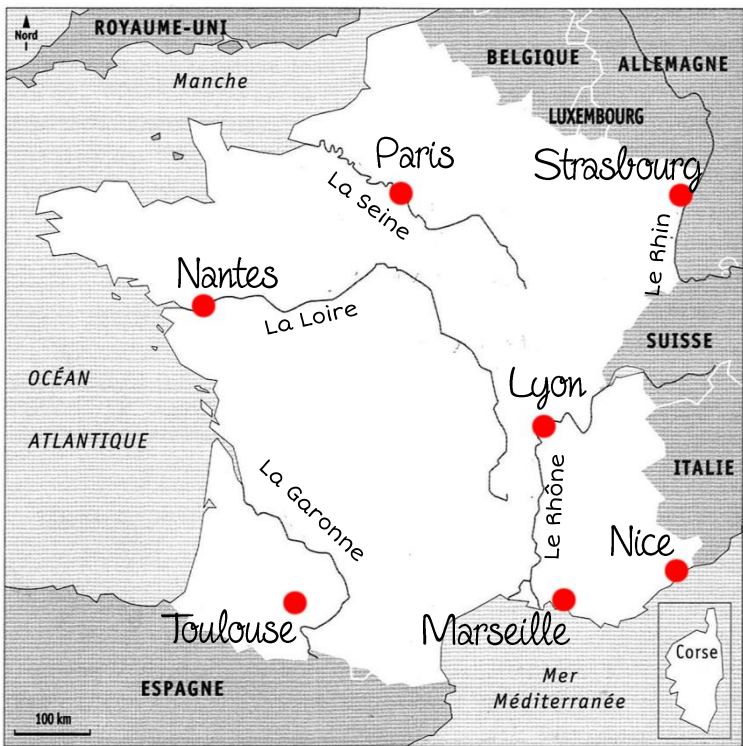
- La France est l'un des plus grands pays du continent européen. Sa superficie* est de 550 000 km². Elle se trouve à l'Est de l'Europe. Sa forme ressemble à un hexagone*.
- Elle est bordée par l'Océan Atlantique, la Manche et la Mer Méditerranée.
- 5 fleuves coulent en France : Le Rhône, le Rhin, la Garonne, la Loire et la Seine.

Les grandes villes

- Trois français sur quatre sont citadins, c'est-à-dire qu'ils habitent en ville*.
- Paris, la capitale, compte plus de 2 millions d'habitants.
- Marseille, Lyon, Toulouse, Nice, Nantes et Strasbourg sont les 6 plus grandes villes après Paris.

Ce que je dois savoir faire

- * Situer sur la carte de France :
 - 1) Les 5 fleuves
 - 2) Les mers et océans qui la bordent
 - 3) Les 7 plus grandes villes
- * Ecrire tous ces noms sans erreur !



Lexique

Hexagone : Forme géométrique à 6 côtés

Superficie : Surface d'un pays, d'un continent

Ville : Ensemble de bâtiments qui a plus de 2000 habitants.



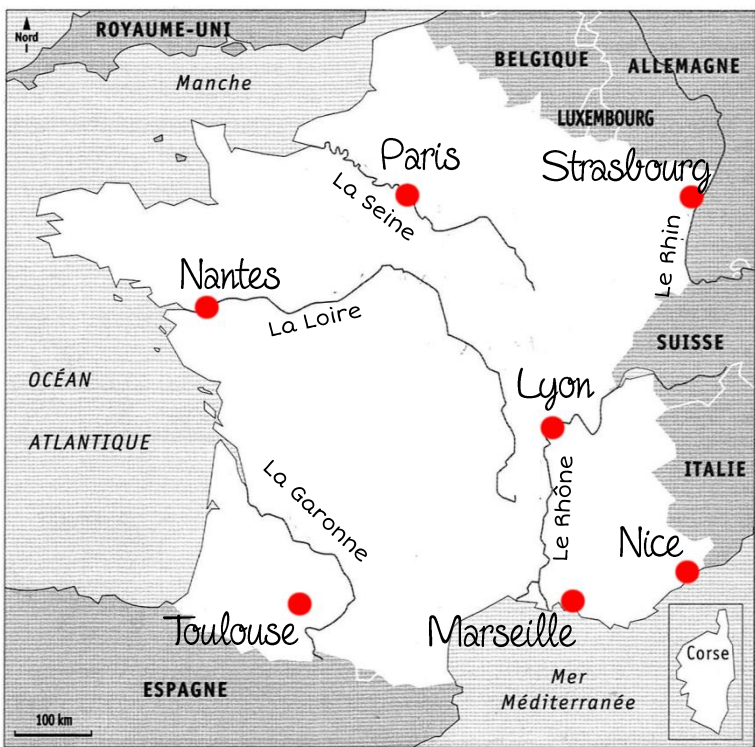
Je retiens

La France

- La France est l'un des plus _____ pays du continent européen. Sa superficie* est de _____ km². Elle se trouve à l'_____ de l'Europe. Sa forme ressemble à un _____*.
- Elle est bordée par l'Océan Atlantique, la Manche et la Mer Méditerranée.
- ___ fleuves coulent en France : Le Rhône, le Rhin, la Garonne, la Loire et la Seine.

Les grandes villes

- 3 français sur 4 sont _____, c'est-à-dire qu'ils habitent en ville*.
- _____, la capitale, compte plus de ___ millions d'habitants.
- Marseille, Lyon, Toulouse, Nice, Nantes et Strasbourg sont les 6 plus grandes villes après Paris.



Ce que je dois savoir faire

- * Situer sur la carte de France :
 - 1) Les 5 fleuves
 - 2) Les mers et océans qui la bordent
 - 3) Les 7 plus grandes villes
- * Ecrire tous ces noms sans erreur !

Lexique

Hexagone : Forme géométrique à 6 côtés

Superficie : Surface d'un pays, d'un continent

Ville : Ensemble de bâtiments qui a plus de 2000 habitants.